

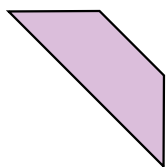
TSA 經典考題解構

● 程度一

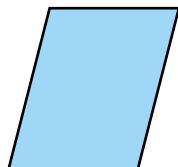
1. 辨認長方形 / 正方形 / 平行四邊形

❗ **失分難點**：未能以平行四邊形的特性辨認平行四邊形。


例：在橫線上填上所有代表答案的英文字母。




A



B



C



D

平行四邊形：_____ B _____

➤ **答題思路**

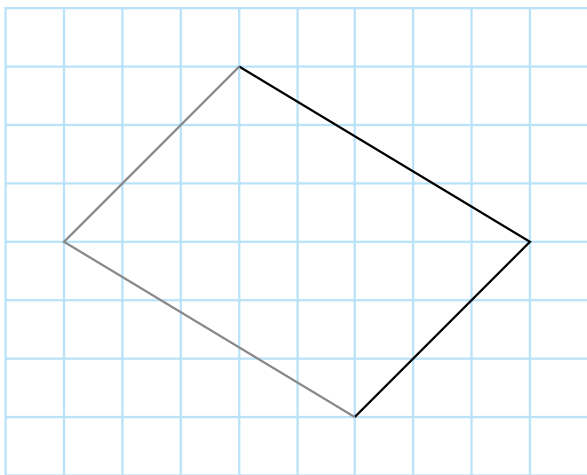
平行四邊形有兩組對邊平行和長度相等，但不是四邊相等。

●● 程度二

2. 畫出長方形 / 正方形 / 平行四邊形

❗ **失分難點**：1. 未能準確地畫出直線。
2. 補畫未完成的圖形時出錯。


例：加畫直線，完成以下的平行四邊形。

➤ **答題思路**

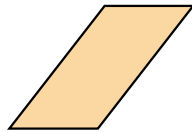
根據原有的線，畫出和它平行的對邊，繪畫時緊記用尺子協助畫出直線。

基礎練習


在橫線上填上所有代表答案的英文字母。(限時：2分鐘)




A




B



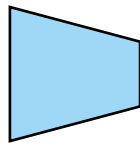
C




D



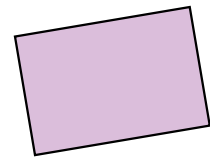
E



F



G



H

1. 列出：


(a) 正方形：_____

(b) 長方形：_____


(c) 平行四邊形：_____

畫出指定的圖形。(限時：3分鐘)


2. 長方形



3. 正方形



4. 平行四邊形



5. 以上的圖形中，哪一個沒有直角？

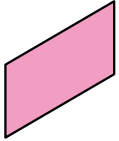
答案：_____形

進階練習

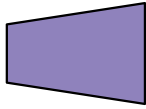
把答案選項的圓圈塗黑和塗滿。(限時：2分鐘)

1. 以下哪一個是平行四邊形？

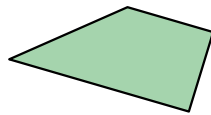
A.




B.



C.



D.



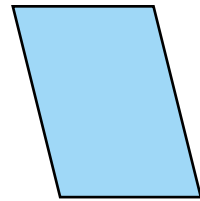
2. 右圖是一個平行四邊形，下列哪一項不正確？

A. 兩組對邊平行。

B. 兩組對邊相等。

C. 四角相等。

D. 兩組對角相等。




3. 以下哪一套竹枝可砌出一個平行四邊形？

A.



B.



C.



D.




在適當的空格內加上✓，完成下表。(限時：2分鐘)

特性	4. 長方形	5. 正方形	6. 平行四邊形
四邊相等			
四角相等			
兩組對邊平行			
兩組對邊相等			

回答下列各題。(限時：2 分鐘)

7. 右圖中，有平行四邊形多少個？

答案：有平行四邊形 _____ 個。



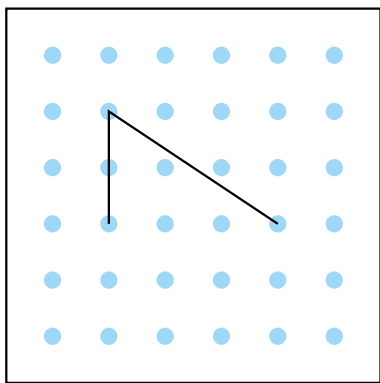
8. 一個平行四邊形的其中三條邊長 8 cm、6 cm 和 8 cm，餘下一條邊的長度是多少？

答案：餘下一條邊的長度是 _____ cm。

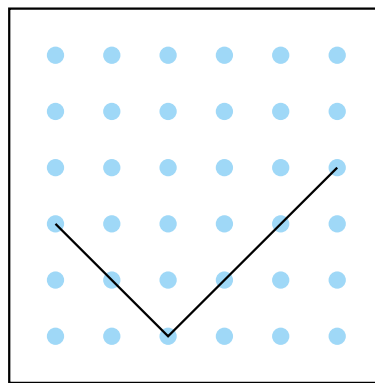
依指示畫圖。(限時：4 分鐘)

9. 在釘板上加畫直線，完成指定的四邊形。

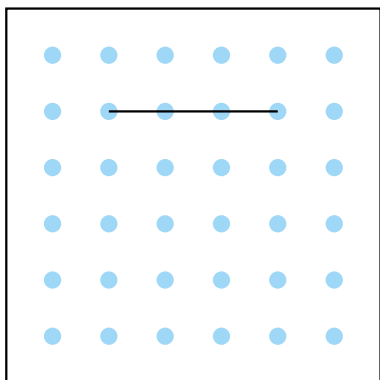
(a) 平行四邊形



(b) 長方形



(c) 有四個直角



(d) 有兩組對邊平行，沒有直角

